


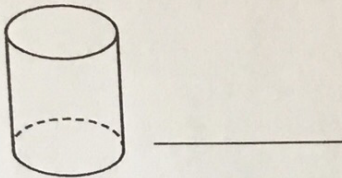
MERCREDI**Géométrie et sens de l'espace**

1. Quel est le nom de cette figure?

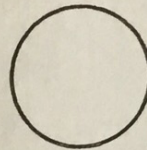


2. Combien de côtés un carré a-t-il?

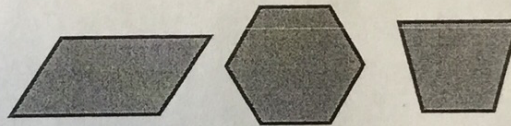
3. Quel est le nom de cette figure à trois dimensions?



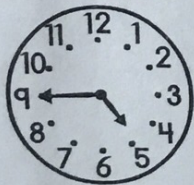
4. Trace un axe de symétrie de cette figure.



5. Encerle l'hexagone.

**JEUDI****Mesure**

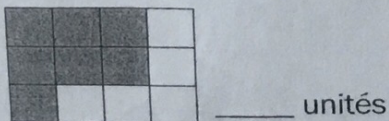
1. Quelle heure est-il?



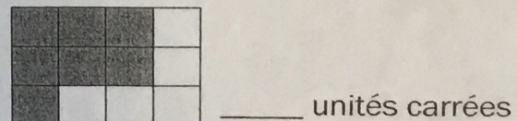
2. Combien de jours y a-t-il dans une semaine?

A. 5 jours B. 6 jours C. 7 jours

3. Trouve le périmètre.



4. Trouve l'aire.



5. Combien de centimètres y a-t-il dans un mètre?